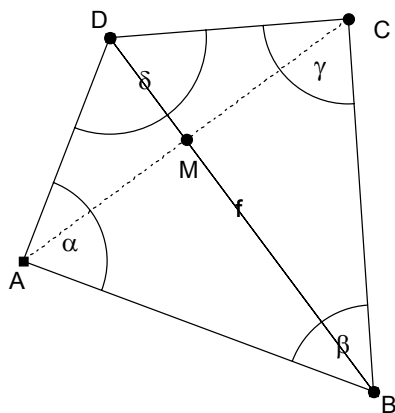


Symmetrische Vierecke

1. Diagonalsymmetrische Vierecke: (**Drachenvierecke**)



Eigenschaften des Drachenvierecks

Seitenlängen: _____

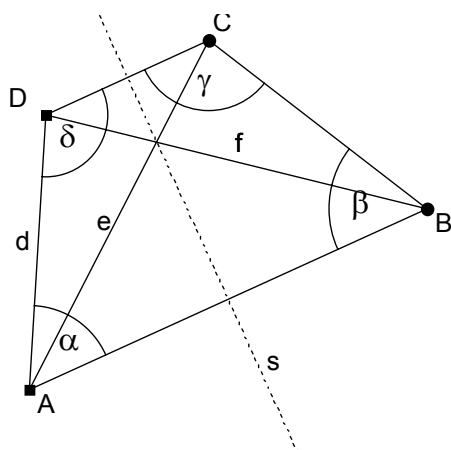
Winkel: _____

Diagonalen: _____

Inkreis: ja nein ankreuzen

Umkreis: ja nein ankreuzen

2. Lotsymmetrische Vierecke: (**Gleichschenklige Trapeze**)



Eigenschaften des gleichschenkligen Trapezes:

Seitenlängen: _____

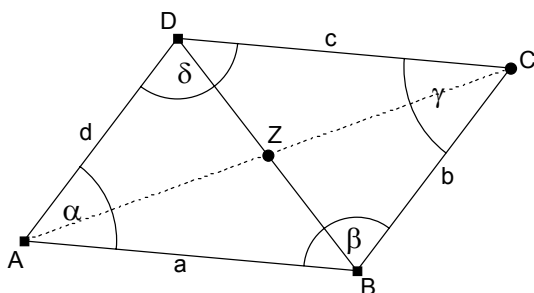
Winkel: _____

Diagonalen: _____

Inkreis: ja nein ankreuzen

Umkreis: ja nein ankreuzen

3. Punktsymmetrische Vierecke: (**Parallelogramme**):



Eigenschaften des Parallelogramms:

Seitenlängen: _____

Winkel: _____

Diagonalen: _____

Inkreis: ja nein ankreuzen

Umkreis: ja nein ankreuzen